



Castilla-La Mancha

E S P A D

Educación Secundaria para Adultos

HOJA DE DATOS DE LA TAREA ENTREGADA

Módulo 1 ESPAD

ÁMBITO SOCIAL

CEPA Pedro Gumiel

ALUMNO/A: _____

FECHA: _____

Esta hoja debe ser rellena por el alumno y adjuntada como primera página de cada tarea

CEPA Pedro Gumiel, Illescas (Toledo)

Datos de contacto



Dirección Completa:

Calle Rodrigo Carrasco Gallego,
s/n. 45200, Illescas (Toledo)

Teléfonos:

925512166

Fax:

925512166

Correo electrónico:

45005914.cea@edu.jccm.es

Ámbito SOCIAL

Módulo 1 (1º ESPAD)

Curso 2022-2023 (1º cuatrimestre)

Fecha límite de entrega: 15 DICIEMBRE

INSTRUCCIONES PARA LA REALIZACIÓN DE LOS EJERCICIOS

- DEBES RESPONDER ESTAS TAREAS A MANO.
- **FORMA DE ENTREGA**: se entregará **preferentemente en mano**, antes de la fecha límite (**15 DICIEMBRE**). Si no se puede acudir a la escuela a hacer la entrega se podrá entregar de forma online de acuerdo con los criterios y vías expuestos por el profesor.
- Para la realización de los ejercicios, puedes usar el **TEMARIO** oficial de ESPAD de la asignatura, que se puede encontrar en la página web del CEPA Pedro Gumiel.
- Si tiene **DUDAS**, puede acudir a las **TUTORÍAS** de **ÁMBITO SOCIAL** del Módulo para orientarse en la resolución de los ejercicios.
- **No se puede escribir todo el trabajo en letra mayúscula ni con lapicero**. Cuide la ortografía, la presentación, la expresión y la estructuración de las respuestas.
- **No está permitido añadir hojas** a este cuadernillo. Las preguntas deben contestarse en el espacio habilitado.
- **Para la entrega ONLINE, debe seguir los siguientes pasos:**
 1. **Descargar este documento (PDF)**, imprimirlo y contestar las preguntas **A MANO** (no se puede utilizar ordenador).
 2. Después **debe ESCANEAR** su trabajo y convertirlo en un PDF que **subirá al Aula Virtual de la asignatura**.

CRITERIOS DE CALIFICACIÓN

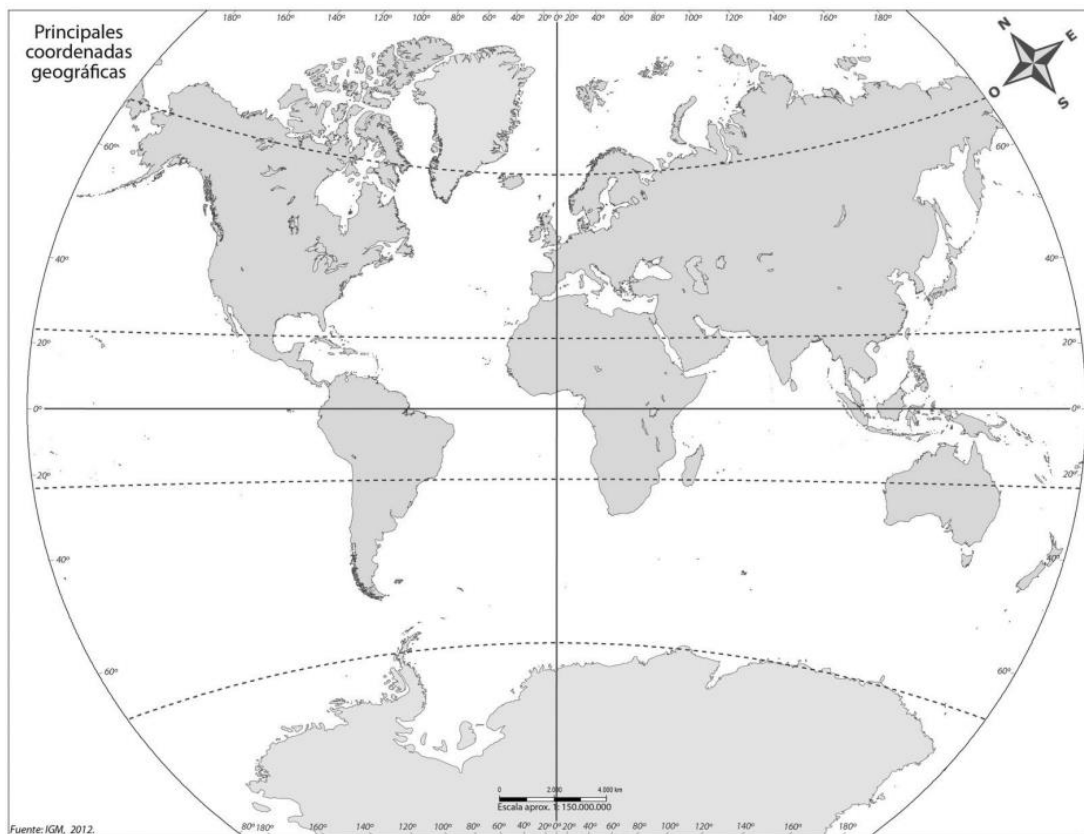
Este cuestionario (**TAREA COMPLETA**) supone un **20 % de la nota final** para la **EVALUACIÓN ORDINARIA (2 PUNTOS)**.

Por último, ¡**MUCHO ÁNIMO** con el curso!

TEMA 1

1. Explica lo que es el movimiento de rotación y de traslación. Después di cuánto tarda la Tierra en efectuar el movimiento de rotación y el movimiento de traslación.

2. Sitúa el meridiano y los paralelos más importantes en este mapamundi.



3. Explica lo que es una proyección cónica, azimutal y cilíndrica.

TEMA 2

4. Define los siguientes conceptos:

- a. Mesetas:

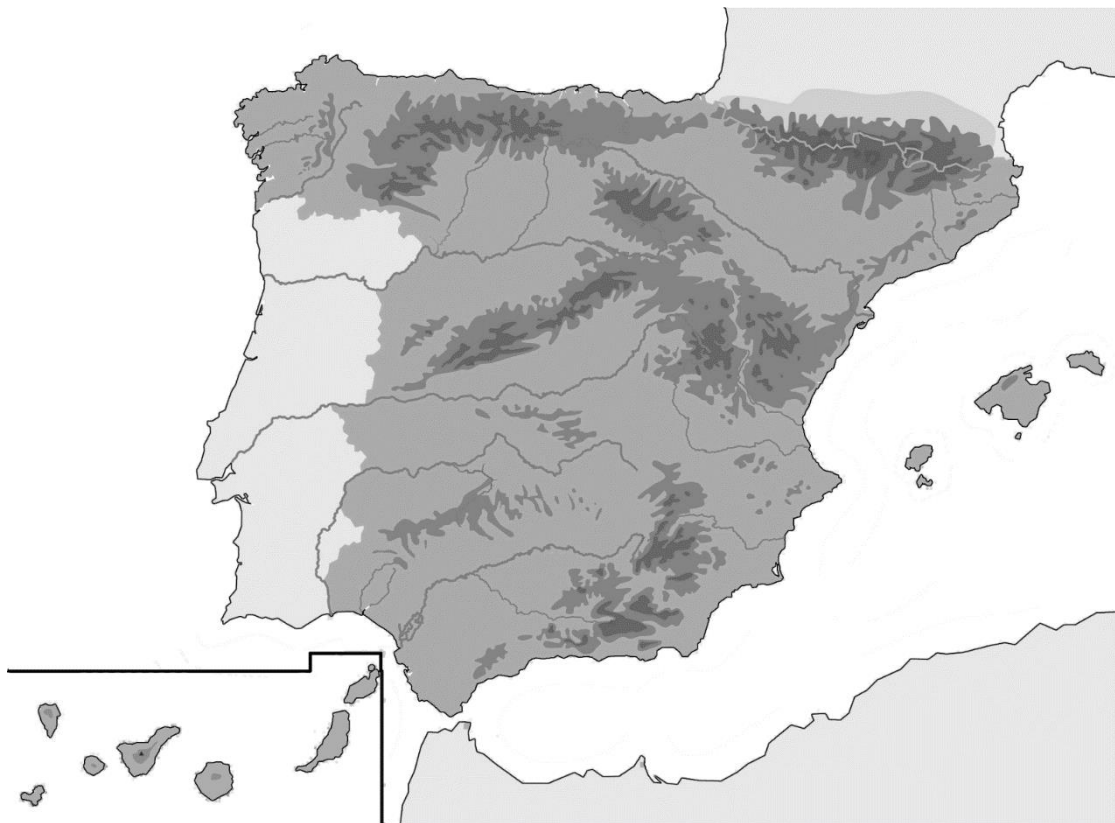
- b. Llanuras:

- c. Cabo:

- d. Golfo:

e. Península:

5. Localiza en el mapa de España las siguientes unidades de relieve: Submeseta Norte, Submeseta Sur, Sistema Central, Montes de Toledo, Macizo Galaico, Montes de León, Cordillera Cantábrica, Sistema Ibérico, Sierra Morena, depresión del Guadalquivir, depresión del Ebro, Montes Vascos, Pirineos, Cordillera Costero-Catalana, Sistemas Béticos.



6. Localiza en el mapa de España los siguientes ríos. Localiza también las islas de los dos archipiélagos españoles.
Bidasoa, Nervión, Navia, Nalón, Miño, Duero, Tajo, Guadiana, Guadalquivir, Guadalhorce, Segura, Júcar, Turia, Ebro, Llobregat, Ter.



TEMA 3

7. Explica brevemente los factores que determinan la temperatura y los factores que determinan las precipitaciones.

8. Haz un esquema con las principales características de los climas de la zona templada (es decir, el clima mediterráneo, el clima chino, el clima oceánico y el clima continental).

TEMA 4

9. Haz un resumen **breve** sobre los problemas medioambientales relacionados con la atmósfera.

10. Define los siguientes conceptos:

a. Huella ecológica:

b. Biodiversidad:

c. Desarrollo sostenible:

d. Lluvia ácida:

e. Efecto invernadero:

TEMA 5

11. Define los siguientes conceptos:

Prehistoria:

Historia:

Economía depredadora:

Hominización:

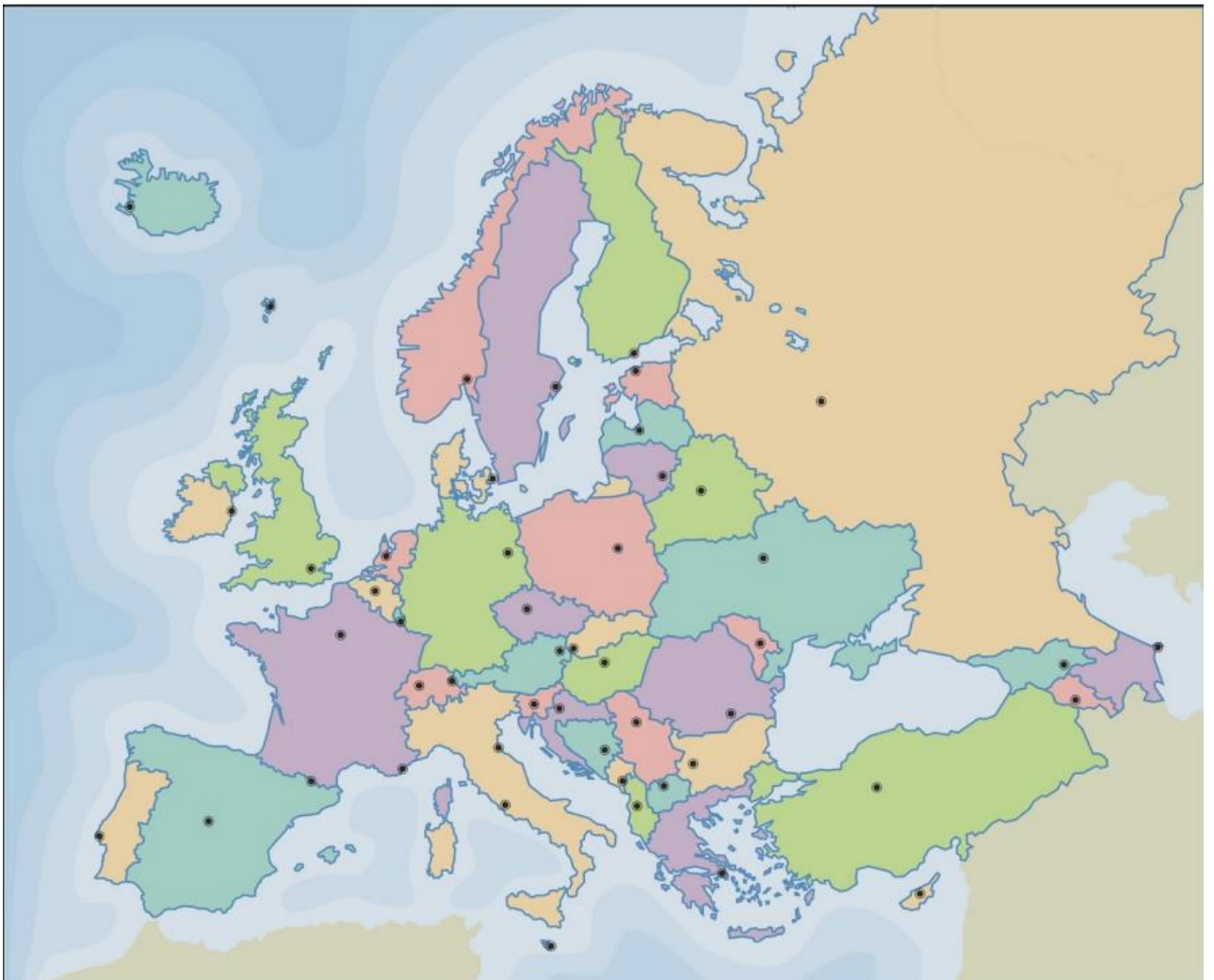
Neolítico:

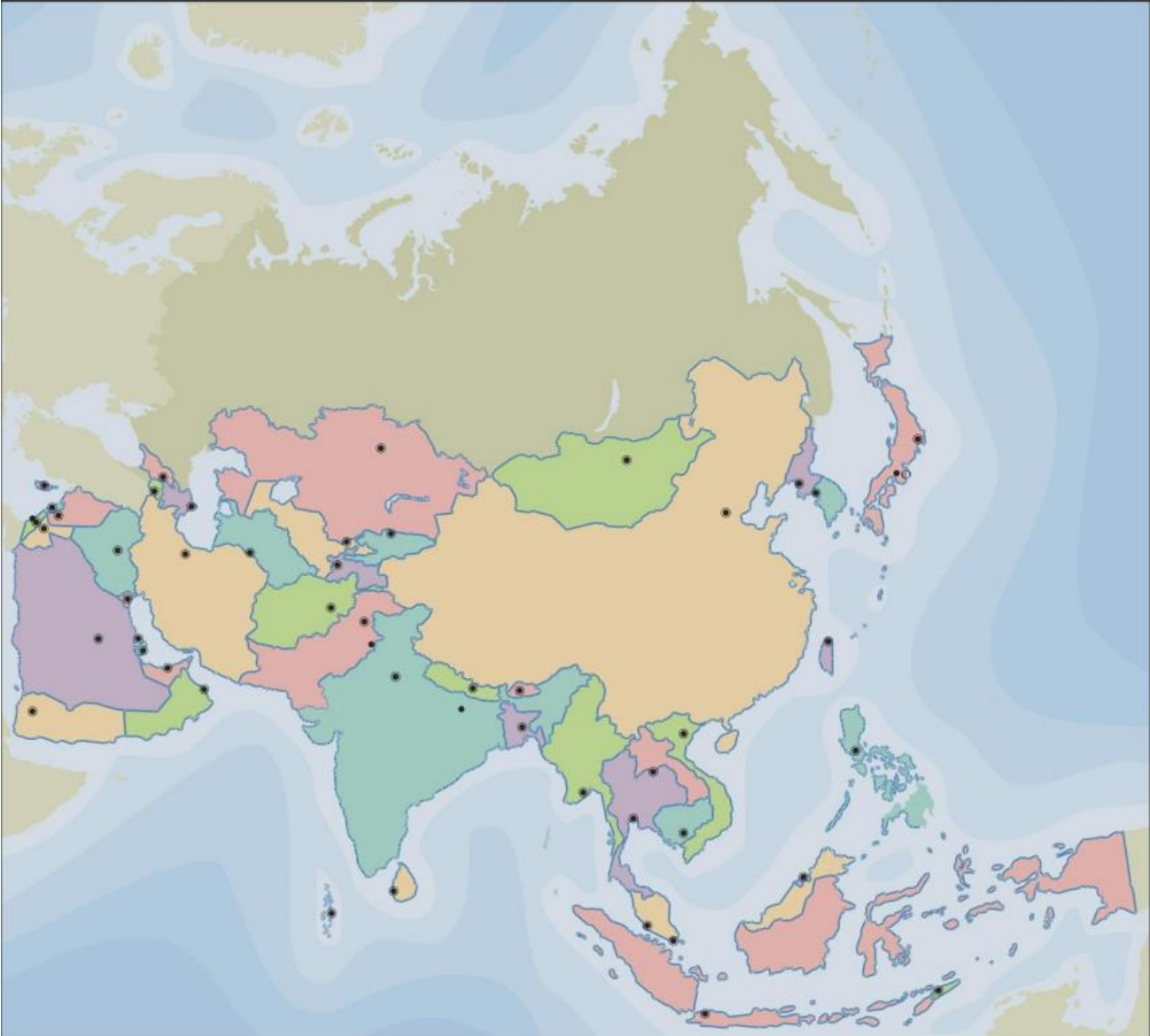
Monumento megalítico:

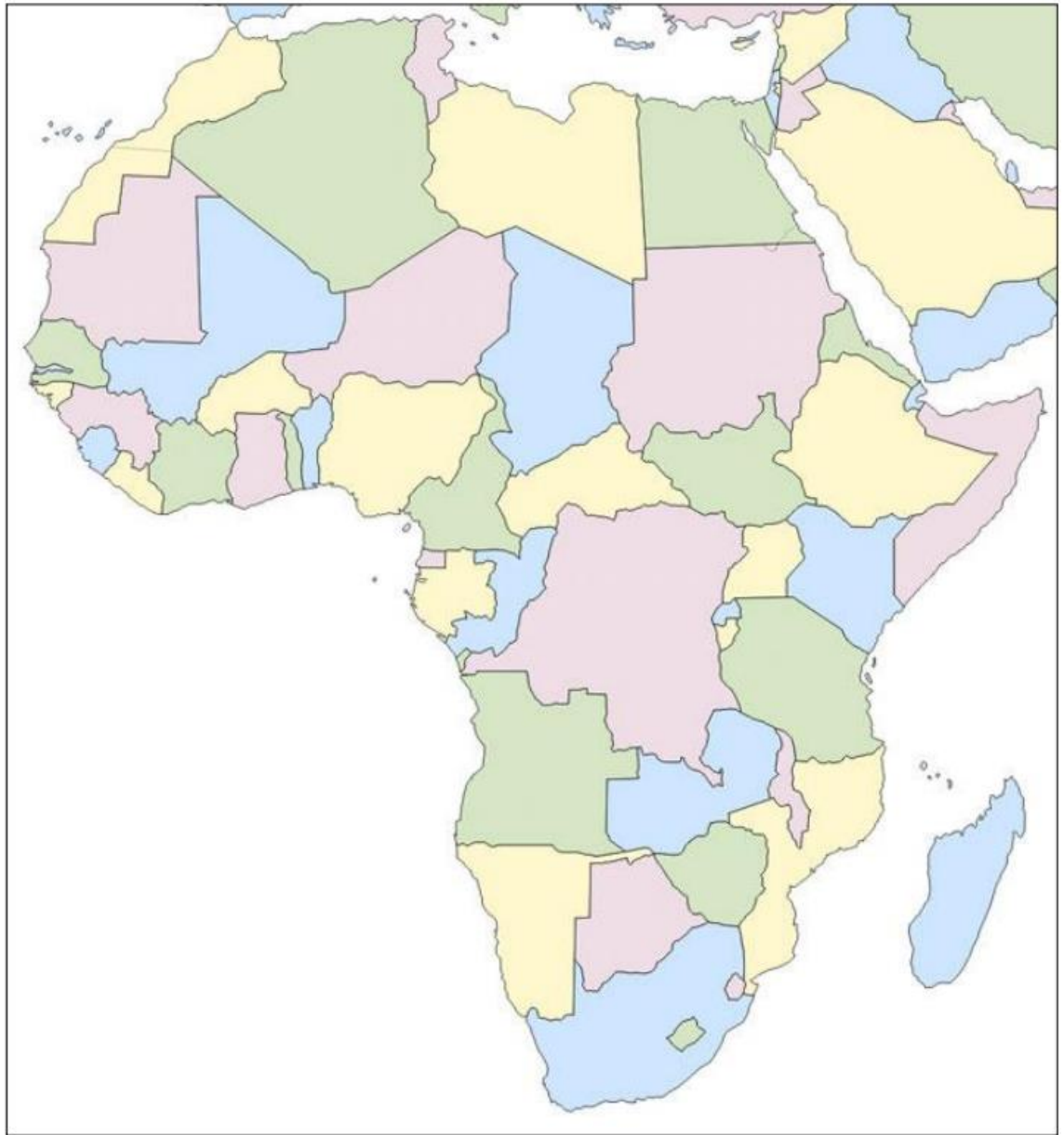
12. Resume las características de la Edad de los Metales.

TEMA 6

13. Identifica todos los países de los siguientes mapas.





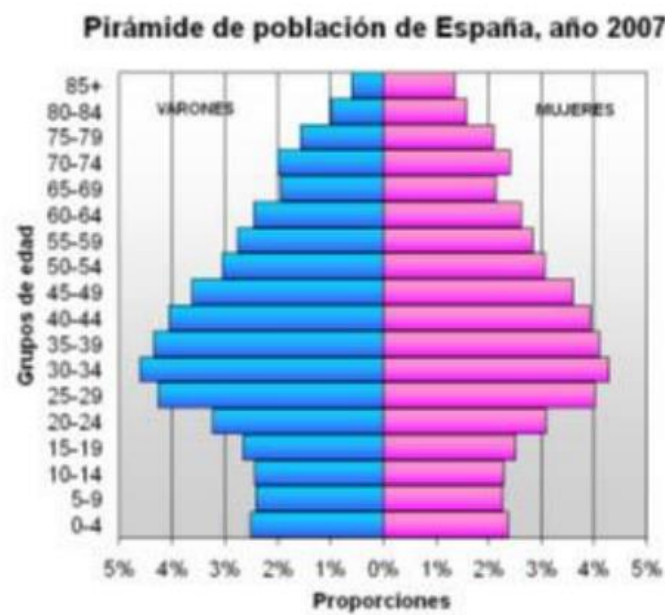




14. Identifica las provincias de España en el siguiente mapa:



15. Identifica qué tipo de pirámide de población es la siguiente, y di las características demográficas de una población con este tipo de pirámide:



TEMA 7

16. Define área metropolitana, conurbación y megalópolis.

TEMA 8

17. Explica lo que son la macroeconomía y la microeconomía.

18. Haz un esquema con las características de los diferentes sectores económicos (primario, secundario, terciario y cuaternario).

TEMA 9

19. Explica las razones que causaron el aumento de la producción agrícola en Mesopotamia y Egipto.

TEMA 10

20. Define los siguientes conceptos:

- Polis:

- Ágora:

- Época arcaica (de la escultura griega):

- Patricios:

- Plebeyos:

RECIBO DE ENTREGA DE TAREAS

FECHA: _____

<i>Sello o firma</i>

ALUMNO/A: _____

MÓDULO 1 ÁMBITO SOCIAL

Este recibo debe ser rellenado por el alumno y mostrado al profesor que le recoja la tarea para que este lo selle. El recibo no será válido como justificante de entrega sin el sello o la firma del profesor en la casilla reservada para tal efecto.

.....

(Cortar por la línea de puntos)